

平成31年度入試【推薦入試Ⅰ】問題

小 論 文

(生物資源科学部 農林生産学科)

注 意

- 1 問題紙は指示があるまで開いてはいけない。
- 2 問題紙は2ページで問題は2問(問1、問2)ある。解答用紙は3枚、下書き用紙は2枚である。指示があってから確認し、解答用紙、下書き用紙の所定の欄に受験番号を記入すること。
- 3 2問中1問を選択し、解答は選択した問を記した解答用紙の所定のところに記入すること。
- 4 解答用紙及び下書き用紙は持ち帰ってはいけない。
- 5 試験終了後、問題紙は持ち帰ること。

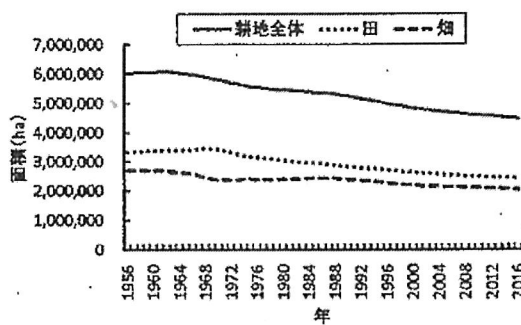
問1

以下のグラフは我が国における耕地面積（第1図）、耕地の拡張・かい廃（第2図）、農家世帯員数（第3図）および年齢別の農家世帯員割合（第4図）の推移を示している。グラフを読み取り以下の設問に答えなさい。

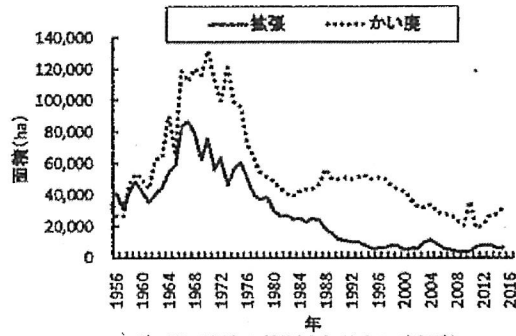
※「拡張」、「かい廃」については農林水産省 HP の用語の解説では以下の通りに示されている。

「拡張」：耕地以外の地目から田又は畑に転換され、既に作物を栽培し、又は次の作付期において、作物を栽培することが可能となった状態。

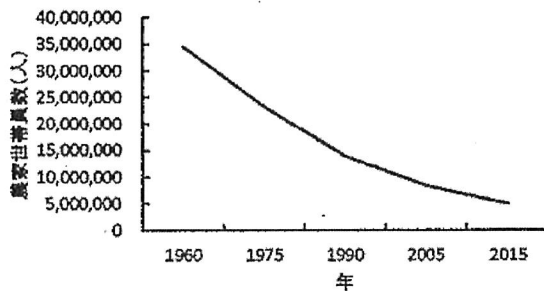
「かい廃」：田又は畑が他の地目に転換し、作物の栽培が困難となった状態。



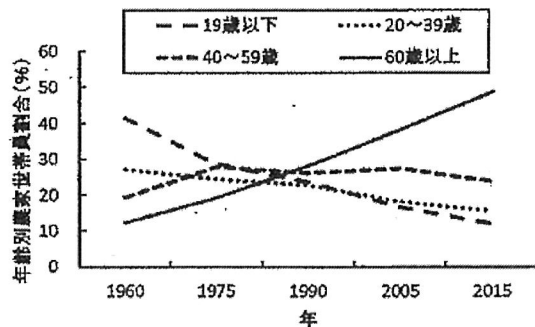
第1図. 耕地面積の推移
(1956~2016年)



第2図. 耕地の拡張またはかい廃面積
(1956~2016年)



第3図. 農家世帯員数の推移



第4図. 年齢別の農家世帯員割合の推移

問1-1：第1図～第4図に示された内容から、我が国の農業が抱える課題とその要因について、あなたの考えを800字以内で述べなさい。

問1-2：あなたが考えた我が国の農業が抱える課題に対しての解決方法を800字以内で答えなさい。

※第1図～第4図は農林水産省 HP の統計情報にあるデータを基に作図した。

問2

以下の文書を読んで設問について答えなさい。

問題

農林業は食料生産・木材生産機能以外に、国土の保全、生物多様性の保全、水源のかん養、自然環境の保全、良好な景観の形成、文化の伝承など様々な機能を持っている。これは農林業が本来持つ食料生産・木材生産以外の機能という点で、農林業の有する多面的機能と呼ばれ、その維持・確保が求められている。

あなたが知っている農林業が有する多面的機能を2つ挙げ、それを維持・確保していくにはどのような対策が有効であるのか、また、あなたが挙げた多面的機能を維持・確保する際に、どのような課題が生じるのか、あなたの考えを800字以内で述べなさい。