

2020年度入試【3年次編入学】

【小論文】

(法文学部 法経学科)

注 意

- 1 問題紙は指示があるまで開いてはいけない。
- 2 問題紙は8ページである。解答用紙は2枚、下書き用紙は2枚である。
指示があってから確認し、解答用紙の所定の欄に受験番号を記入すること。
- 3 答えはすべて解答用紙の所定のところへ記入すること。
- 4 解答用紙は持ち帰ってはいけない。
- 5 試験終了後、問題紙、下書き用紙は持ち帰ること。
- 6 字数には、句読点を含める。なお数字は、2字で1字として計算する（ただし漢数字はのぞく）。またアルファベットは1字で1字として計算する。

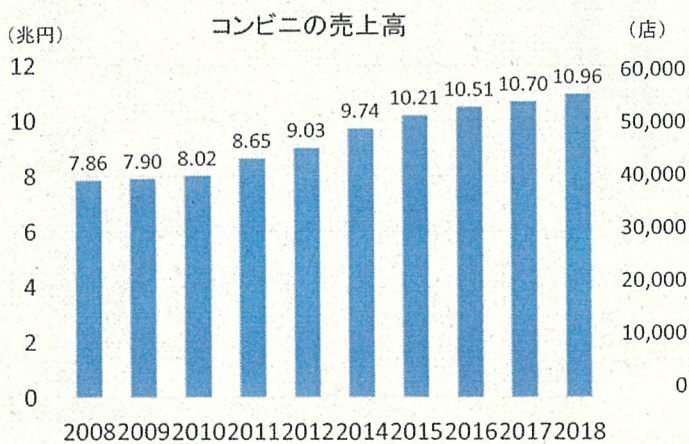
1 以下の図表および資料は、コンビニのあり方に関するものである。以下の問いに、すべて答えなさい。

問1 図表1, 2, 3, 4からどのようなことを読み取ることができるか。200字以内で答えなさい。

問2 【資料1】は、24時間営業を前提とするコンビニのフランチャイズ契約について裁判所の見解を示したものである。このような考え方について、図表を含むすべての資料およびあなたの知識を用いて、あなたの意見を 200字以上300字以内で述べなさい。

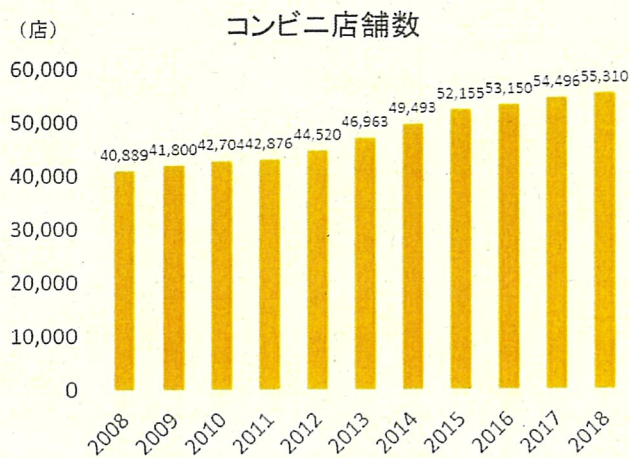
問3 図表5, 6, 7を参考にしながら、今後コンビニに期待される役割について、あなたの意見を 600字以内で述べなさい。

図表1

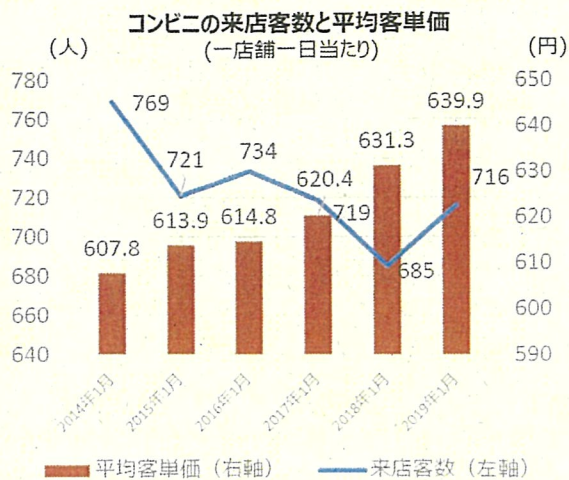


(出所) 経済産業省資料

図表 2

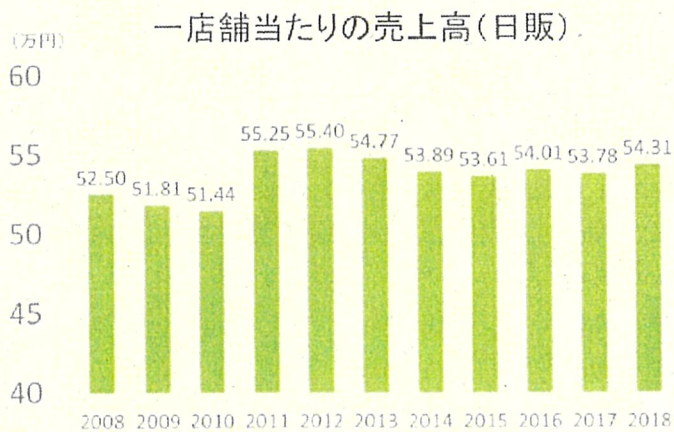


図表 3



(出所) 経済産業省資料

図表 4



(注) 日販：その日の売り上げ(販売)金額。

(出所) 経済産業省資料

【資料 1】

(この部分につきましては、著作権の関係により、公開しません。)

(出所) 日経速報ニュースアーカイブ 2013年6月13日 (一部改変)

【資料 2】

(この部分につきましては、著作権の関係により、公開しません。)

(この部分につきましては、著作権の関係により、公開しません。)

(出所) 日本経済新聞 2019 年 4 月 10 日朝刊(一部改変, 一部抜粋)

【資料3】

(この部分につきましては、著作権の関係により、公開しません。)

(この部分につきましては、著作権の関係により、公開しません。)

(出所) 朝日新聞 2019 年 4 月 10 日朝刊 (一部改変, 一部抜粋)

(この部分につきましては、著作権の関係により、公開しません。)

(出所) 一般社団法人日本フランチャイズチェーン協会資料より作成

(この部分につきましては、著作権の関係により、公開しません。)

(出所) 一般社団法人日本フランチャイズチェーン協会資料より作成

図表7 コンビニ交付の利用状況

(この部分につきましては、著作権の関係により、公開しません。)

(出所)地方公共団体情報システム機構資料より作成

(注) コンビニ交付：マイナンバーカード（又は住民基本台帳カード）を利用して市区町村が発行する証明書（住民票の写し、印鑑登録証明書等）が全国のコンビニエンスストア等のキオスク端末（マルチコピー機）から取得できるサービス。