

令和6年度一般選抜
個別学力試験問題(後期日程)

総合問題

(法文学部法経学科・社会文化学科)

注意

1. 問題紙は指示があるまで開いてはいけません。
2. 問題紙は11ページ、解答用紙は3枚、下書き用紙は3枚です。指示があってから確認し、解答用紙の所定の欄に受験番号を記入してください。
3. 答えはすべて解答用紙の所定のところに記入してください。
4. 答えは横書とします。
5. 解答用紙は持ち帰ってはいけません。
6. 試験終了後、問題紙と下書き用紙は持ち帰ってください。

1 次の文章を読んで、後の問い(問1～問4)に答えなさい。

(この部分につきましては、著作権の関係により、公開しません。)

(この部分につきましては、著作権の関係により、公開しません。)

(この部分につきましては、著作権の関係により、公開しません。)

(この部分につきましては、著作権の関係により、公開しません。)

(この部分につきましては、著作権の関係により、公開しません。)

(出典) 國分功一郎『目的への抵抗 シリーズ哲学講話』(新潮社, 2023年)一部
改変

(注) 清貧: 私欲がなく行いが正しいために、貧しく暮らしていること。

問 1 下線部①～④のカタカナを漢字で書きなさい。

問 2 下線部Aについて、筆者は、「贅沢」をどのような概念として捉えているか。100字以内で説明しなさい。

問 3 下線部Bについて、筆者は、「浪費」と「消費」にどのような違いがあると考えているか。80字以内で説明しなさい。

問 4 下線部Cについて、「僕らは浪費家になって贅沢を楽しめるはずなのに、消費者にされて記号消費のゲームへと駆り立てられている」とは、どのような行為が考えられるか。本文中にあげられているものを除いて、具体例をあげて説明しなさい。

2 次の文章を読んで、後の問いに答えなさい。

あなたが主将を務める野球部では、部活動終了後に毎日当番制で部室の掃除をすることになっている。ところが、新学期になってから、部員が掃除当番をサボるケースが多発している。そこで、あなたと3人の部員(A・B・C)が、部室掃除のあり方について相談することになった。

以下の会話は、そのときの話し合いの内容である。

A：毎日の部室掃除は野球部の伝統なのに、それをサボる部員が続出するのは、困りましたね。しかも、部室がきれいになっていないことを指摘すると、「掃除はした」と嘘をつく者もいると聞きました。

B：うちの部のルールでは、掃除をサボった場合には、翌日の部室掃除だけでなく、罰としてボール磨きをすることにもなっています。それにもかかわらず、どうして掃除をサボる部員が出るのでしょうか？

A：罰則が軽すぎるのではないのでしょうか。一度でも掃除をサボったら、次の試合に出られないことにするのはどうでしょう。そうすれば、部員たちも真面目に部室の掃除に取り組むように思います。

B：さすがに一度掃除をサボっただけで試合に出られなくなるのは厳しすぎませんか？主力選手が欠場することになればチームの戦力に影響します。また、もともと試合に出る予定のない部員には効果がないでしょう。Cさんはどう思いますか？

C：私も、Bさんと同じく、掃除をサボったくらいで試合に出場させないのは厳しすぎるのではないかと思います。むしろ、掃除をサボることができないような環境づくりに力を入れるのはどうでしょう。たとえば、当番の部員は、毎回、清掃前と清掃後の部室の様子をスマートフォンで撮影して、部員全員

に共有することにはどうですか。そうすれば、自分が掃除でどれだけ部室をきれいにしたのか証明することができますし、掃除をサボりにくくなります。

A：たしかにそうかもしれませんが、掃除をサボる少数の者のために、部員全員の手間が増えるというのはどうも納得がいかないですね。

B：私も、掃除の様子を撮影させるというのは気が引けます。Aさんの指摘する問題もありますし、部員たちが掃除をサボろうとする前提で考えることにも抵抗があります。本来、掃除は自分たちが気持ちよく部活動をするために行うものであるはずです。むしろ、「なぜ部室をきれいにしておくべきなのか」を教え諭すことで、部員たちが自発的に掃除に取り組むように促すのが一番よいのではないのでしょうか？

C：Bさんの発想は理想論ではないですか？これまでも、野球だけでなく日頃の行いが重要だということは監督から何度も言われているのに、掃除を面倒だと考える部員は減っていません。状況を改善するには、やはり何か実効的な対策を行わなければならないと思います。

問 話し合いでは、部員たちの意見が一致することはなく、主将であるあなたに最終的な判断が一任されることになった。

あなたは、この話し合いの内容を踏まえて、どのような対策を打ち出すことにするか、説得的な理由をつけて述べなさい。その際、A・B・Cいずれかの立場に立ってもよいし、あなた独自の対策を示してもよい。

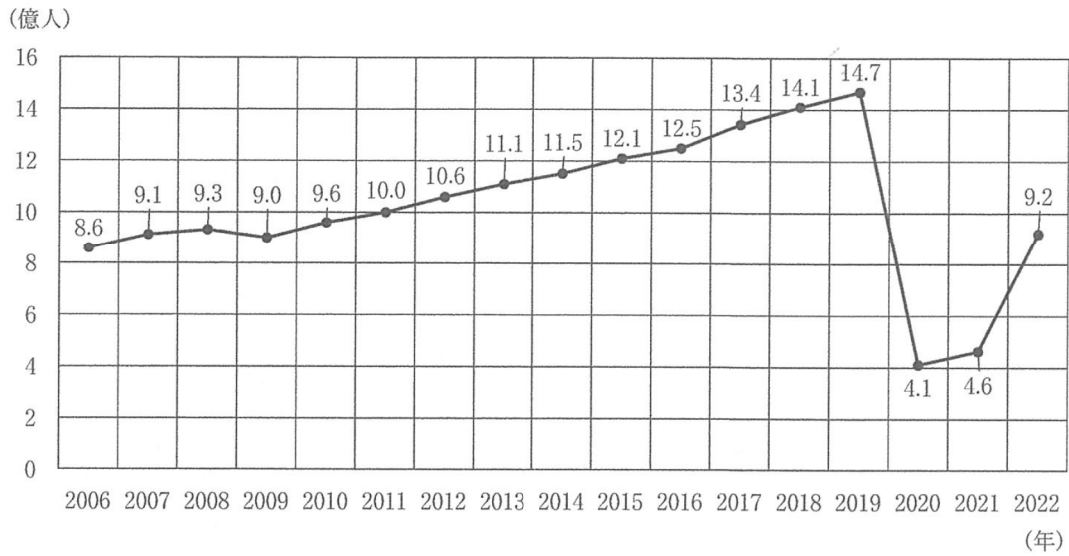
3

次の問い(問1・問2)に答えなさい。

問1 2019年に発生した新型コロナウイルス感染症(COVID-19)は世界中に大きな影響を与えた。次の図表1～図表4は、国際観光について示したものである。これらの図表から読み取ることができる特徴として、次の①～④について正しいものには○、誤っているものには×をつけなさい。

- ① 2020年は世界全体の国際観光客数が大幅に減少した。それは前年比85%減というものであった。
- ② 2022年の地域別国際観光客数をみると、どの地域も前年より観光客数を伸ばしている。前年比の伸び率でいうとアジア太平洋地域が最大であるが、国際観光客数でいうと欧州が最も増加した地域である。
- ③ 2020年から2021年にかけて、世界全体の国際観光客数は緩やかな増加に転じているが、同時期の訪日外国人旅行者数は減少した。
- ④ 2015年以降、出国日本人数が訪日外国人旅行者数を上回った年はない。

図表1 世界全体の国際観光客数の推移



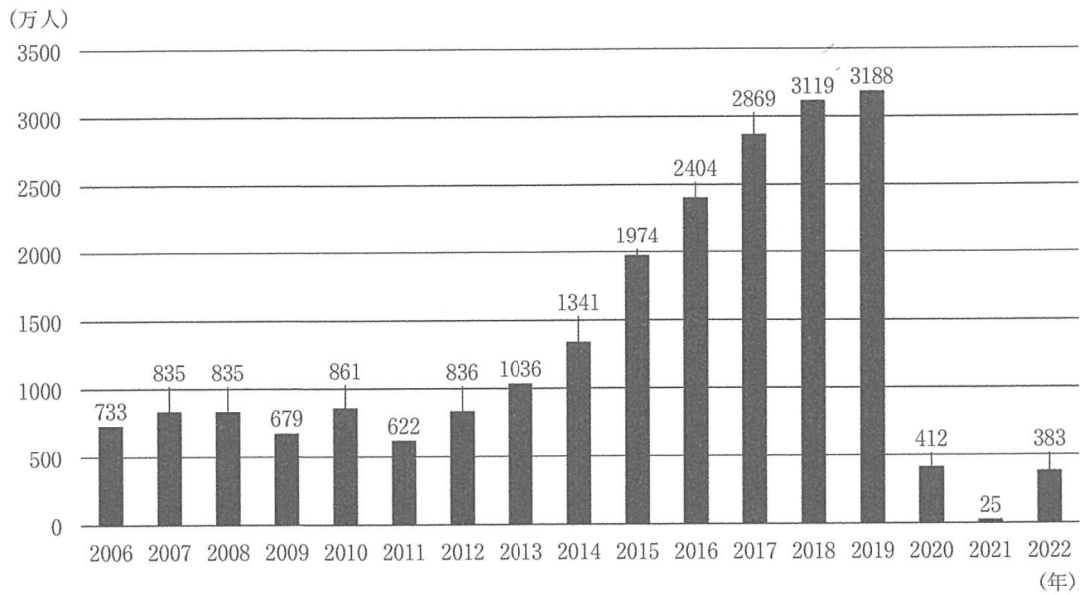
(資料) 令和5年版観光白書より作成

図表2 2022年地域別国際観光客数

	国際観光客数 (単位：百万人)	前年差 (単位：百万人)	前年比
欧州	584.9	280.2	92.0 %増
アジア太平洋	84.4	59.6	241.0 %増
米州	142.4	61.0	74.9 %増
アフリカ	45.0	25.6	132.4 %増
中東	60.3	35.6	144.4 %増

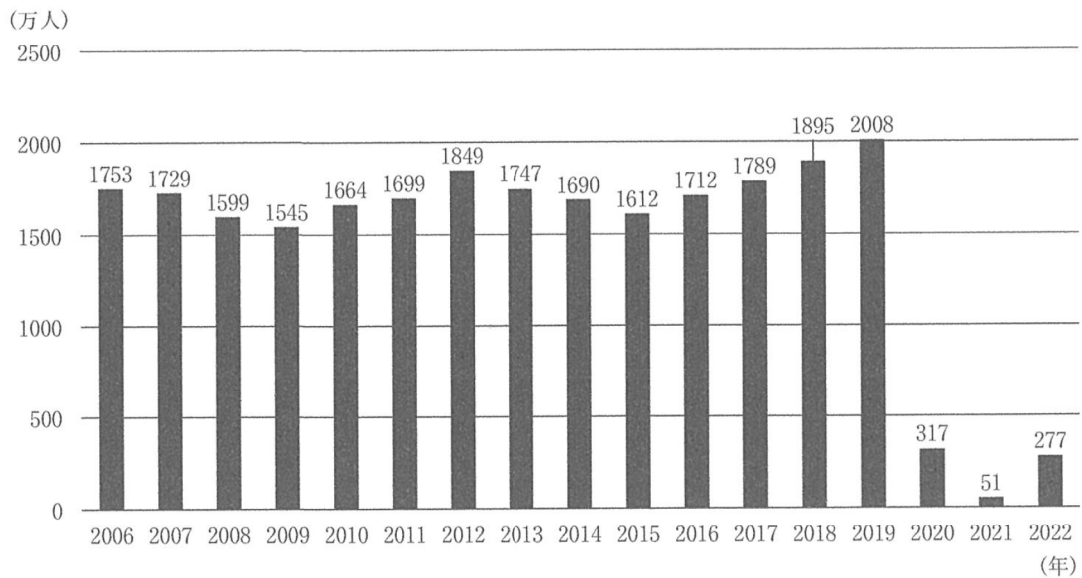
(資料) 令和5年版観光白書より作成

図表3 訪日外国人旅行者数の推移



(資料) 令和5年版観光白書より作成

図表4 出国日本人数の推移



(資料) 令和5年版観光白書より作成

問 2 新型コロナウイルス感染症の拡大は、日本の外食産業にも大きな影響を及ぼした。次の図表 5 は、ある架空の外食店の売上高の前月比伸び率の推移を示したものである。この図表から読み取ることができる特徴として、次の①～⑦について正しいものには○、誤っているものには×をつけなさい。

- ① 2020 年 1 月から 2020 年 3 月にかけて、この店の売上高は減少したものの半分以下にまでは減っていない。
- ② 2020 年 3 月から 2020 年 4 月にかけて、この店の売上高は 75 % 増加した。
- ③ 2020 年 11 月と 2021 年 1 月の売上高は等しい。
- ④ 2021 年 2 月の売上高は 2020 年 12 月の売上高のおよそ半分である。
- ⑤ 2020 年 1 月から 2021 年 2 月までの期間には、売上高が前月比で増えた月もある。
- ⑥ 2021 年 3 月の売上高は 2020 年 12 月と比べて 60 % 以上増加している。
- ⑦ 2021 年 3 月と 2021 年 5 月とでは、後者の売上高の方が前者より 15 % 以上大きい。

図表 5 売上高前月比の伸び率の推移

